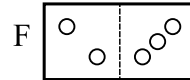
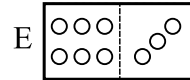
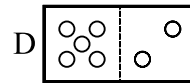
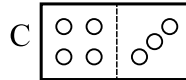
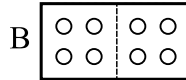
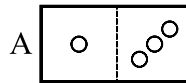
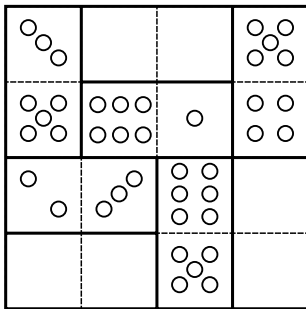


Vaikeustaso on merkitty tähdillä: yhden tähden (*) tehtävä on helpoin ja kolmen (***) haastavin.

1.

(*) Dominopalat asetetaan kuvan mukaisesti niin, että kussakin neljässä pysty- ja vaakarivissä pisteiden summa on sama. Mikä dominopaloista A - F on sijoitettava
a) ylös keskelle b) alas vasemmalle c) alas oikealle?



2.

(**) Kirjoita numeroita 1, 1, 2, 2, 3 ja 3 käyttäen kaksidesimaalinen luku, jossa ykkösten välissä on yksi, kakkosten välissä kaksi ja kolmosten välissä kolme numeroa.

3.

(***) Kirjoita järjestyksessä jonosta puuttuvat kolme numeroa. Minkä säännön mukaan numerot on järjestetty?

8, 2, 3, 6, 4, 0, 7, ____, ____, ja ____.

3. 5, 9 ja 1. Numerot ovat aakkosjärjestyksessä.
2. 3 121,32 tai 2 312,13
1. a) B b) E c) D

Vastaukset: