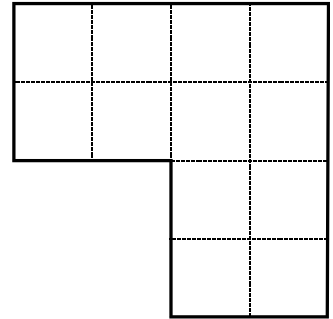


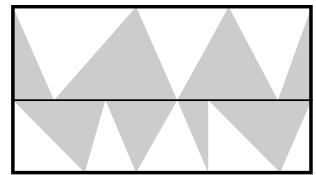
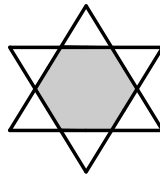
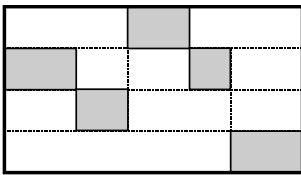
1.

Jaa alue neljään yhtenevään osaan.



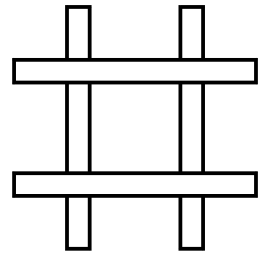
2.

Mikä osa kuviosta on tummennettu?



3.

Neljä paperisuikaletta, joiden jokaisen pituus on 10 cm ja leveys 1 cm, asetetaan kuvan mukaisesti. Kuinka suuren alueen ne peittävät alustasta?



Vastaukset:
1.



2. a) neljäsosa b)
puolet c) puolet

3. 36 cm²