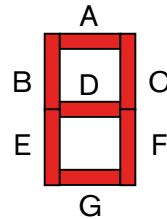
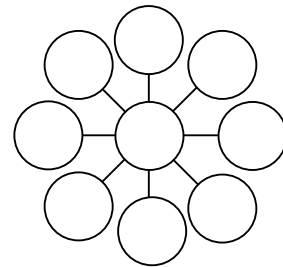


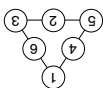
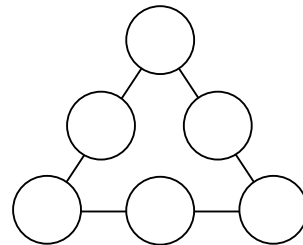
1. Digitaalinäyttö muodostuu seitsemästä nestekidepalkista, jotka on merkitty kirjaimilla A–G. Kaikki numerot 0–9 esiintyvät näytössä likimain yhtä usein. Mikä palkeista on eniten ja mikä vähiten käytössä?



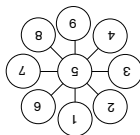
2. Sijoita luvut 1, 2, 3, ..., 9 ympyröihin niin, että kolmen samalla suoralla olevan luvun summa on aina yhtä suuri.



3. Sijoita luvut 1, 2, 3, 4, 5 ja 6 kolmion sivuille oleviin ympyröihin niin, että lukujen summa kaikilla sivuilla on 10.



3.



2.

Palkkia F käytetään eniten ja palkkia E vähiten. Kun kaikki numerot ovat esiintyneet kerran, palkkeja on käytetty seuraavasti: A: 8, B: 6, C: 8, D: 7, E: 4, F: 9 ja G: 7 kertaa.

1.

Vastaukset:

